



2º básico Matemática semana 25
Posición de objetos y personas

Objetivo: Describir la posición de persona y objetos en relación a sí mismos y a otros.



Las siguientes palabras ayudan a describir la posición de personas u objetos en relación a sí mismo y a otros.


















	derecha / izquierda		arriba / abajo
	adelante / atrás		adentro / afuera


<p>Entre</p>	<p>Alrededor</p>
--------------	------------------



1. Lee atentamente y encierra con un los objetos según las indicaciones.

<p>A A la derecha de la pelota</p>			
<p>B A la izquierda del triángulo</p>			
<p>C A la derecha de la pelota</p>			
<p>D A la derecha de la nube</p>			
<p>E A la izquierda del rectángulo</p>			

2. Encierra el que conejo que está atrás.



3. Observa y completa las oraciones:



Hugo



Paula



Miguel



Lola



Pablo



Sara

- Miguel está a la _____ de Lola.
- Paula está a la _____ de Hugo.
- Pablo es el número 2 contando desde la _____.
- A la _____ de Pablo está Sara.



María



Paco



Ana



Lucas



Carmen



Luis

- _____ está a la derecha de Carmen.
- _____ es el número 4 contando desde la izquierda.
- _____ está a la derecha de Lucas.
- La que está a la izquierda de Paco es _____.

4. Encierra la torta que está debajo de la mesa.



Recuerda que debes enviar solo el desarrollo de la **Zona Roja** cada semana y no olvides indicar:

Nombre, curso, asignatura y nº de guía que envías.

"Lo puedes hacer a través de mail o ClassDojo"

2º A - C

Prof. Natalia Larenas: nlarenascsj@gmail.com

2º B

Prof. Paula Maturana: paulammcsj@gmail.com



EVALUACIÓN FORMATIVA

I. Observa la imagen y responde las siguientes alternativas.

- Encierra con un la alternativa correcta.

Nicolás y Paula están buscando algunas cosas en los estantes de la sala de clases.



1. A la izquierda de Paula se encuentra :

- A) El estante rosado
- B) El estante azul
- C) La ventana

2. A la derecha de Nicolás se encuentra:

- A) El estante rosado
- B) El estante azul
- C) La ventana

3. Dentro del estante que está a la izquierda de Paula hay:

- A) Libros
- B) Lápices, pinceles y témperas.
- C) Una planta

4. Dentro del estante que está a la derecha de Nicolás:

- A) Libros
- B) Lápices, pinceles y témperas.
- C) Lana

5. A la izquierda del estante azul hay:

- A) Una ventana
- B) Una caja con lanas
- C) Una planta

6. Entre los estantes hay:

- A) Árboles
- B) Libros
- C) Una ventana

7. El libro de Matemática está:

- A) Arriba del libro de Sociedad
- B) Abajo del libro de lenguaje
- C) Entre el libro de Sociedad y Lenguaje