



GUIA DE TRABAJO 17: “VIVIENDAS GRIEGAS Y ROMANAS”.

Objetivo: Reconocer e identificar como era la vivienda de los griegos y romanos.

Instrucciones generales: En compañía de tus padres o un adulto, lee cada una de las actividades que aquí se proponen, utiliza lápiz grafito para responder. **El desarrollo debe ser realizado en tu cuaderno o la misma guía. El ítem de autocorrección será revisado la profesora, debes enviarlo a través del siguiente link de google formulario <https://forms.gle/YVfRzsx4ooYKrgRH9> al ingresar debes completar los datos, adjuntar la imagen o archivo y enviar.**

- Frente a cualquier pregunta o duda que tengan escríbanme al siguiente correo: paulinareyesg.csj@gmail.com o dejarme un mensaje en tu **Class-Dojo** de curso.
- Recuerda que puedes obtener descargar los libros del MINEDUC en el siguiente sitio web: <https://paulinareyesgcsj.wixsite.com/historia>
- Puedes revisar en familia las guías y contestar tus dudas con los videos de retroalimentación en el siguiente link https://www.youtube.com/channel/UCyXRf1_opNsJRBtz-HnrX4w?view_as=subscriber
- Completa el ítem de autocorrección “**Veamos cuanto logré y aprendí**”, que te ayudará a reconocer el aprendizaje alcanzado durante la actividad y es la parte de la guía que debes enviar a tu profesora.

Instrucciones específicas:

1. Escribe en tu cuaderno el Objetivo y la fecha (día-mes-año), que desarrollaste la guía.
2. Lee atentamente la materia sobre “**¿Dónde vivían los griegos?**” y “**¿Dónde vivían los romanos?**”
3. Realiza la actividad 1 y 2 (Recuerda pegar la guía en tu cuaderno o escribirla)

En la guía anterior te enseñé sobre las grandes ciudades griegas y romanas, las polis y las urbs, ahora te diré como eran sus casas, para que te hagas una idea de cómo Vivían los griegos y romanos.

¿Dónde vivían los griegos?

Las casas griegas llamadas **oikos** tenían una estructura muy simple, se organizaban entorno a un patio central y solían ser de **adobe** (mezcla de barro y paja para hacer las paredes de estas), había paredes de yeso o ladrillo y el piso era de tierra o madera. Las casas contaban con uno o dos pisos con pocos muebles. Al entrar a la vivienda había un **recibidor** o **vestíbulo** y un comedor, también había una sala destinada solo a los hombres llamada **androceo** o **andrón**, en esta habitación ellos pasaban tiempo con los amigos y discutían diversos temas masculinos o hacían fiestas. Otra habitación era destinada para mujeres y niños esta se llamaba **gineceo**, acá organizaban las tareas domésticas del hogar, tales como: tejer o hilar y también recibían a sus amigas ahí cuando las iban a visitar.

Ve el siguiente video para que comprendas mejor las viviendas de los griegos (publicaré este video en tu Class-dojo de curso) <https://www.youtube.com/watch?v=2PMG2fJWDOY>

Actividad 1:

- a) Según el video que te deje en la guía sobre las casas griegas, completa las oraciones con las palabras del recuadro.

tejas – altar – simposio – banquetes – superior – patio – adobe

1. Tenían 10 habitaciones en la planta baja y un amplio _____.
2. En el patio central se situaba el _____ para los sacrificios a los dioses familiares.
3. El comedor de los hombres, el andrón o sala de _____, en esta sala celebraban el _____, un banquete popular de Atenas.
4. En el gineceo, habitación reservada para las esposas, hijas y siervas, se situaba en la parte _____, las ventanas son escasas y pequeñas.
5. Los muros de la casa fueron hechos de _____, apoyados de un sócalo de piedra, los tejados cubiertos de _____ de terracota.

b) Escribe el nombre de 3 habitación de la casa en las líneas, unas estas palabras

- **Gineceo**
- **Androceo o andrón**
- **Recibidor o vestíbulo**

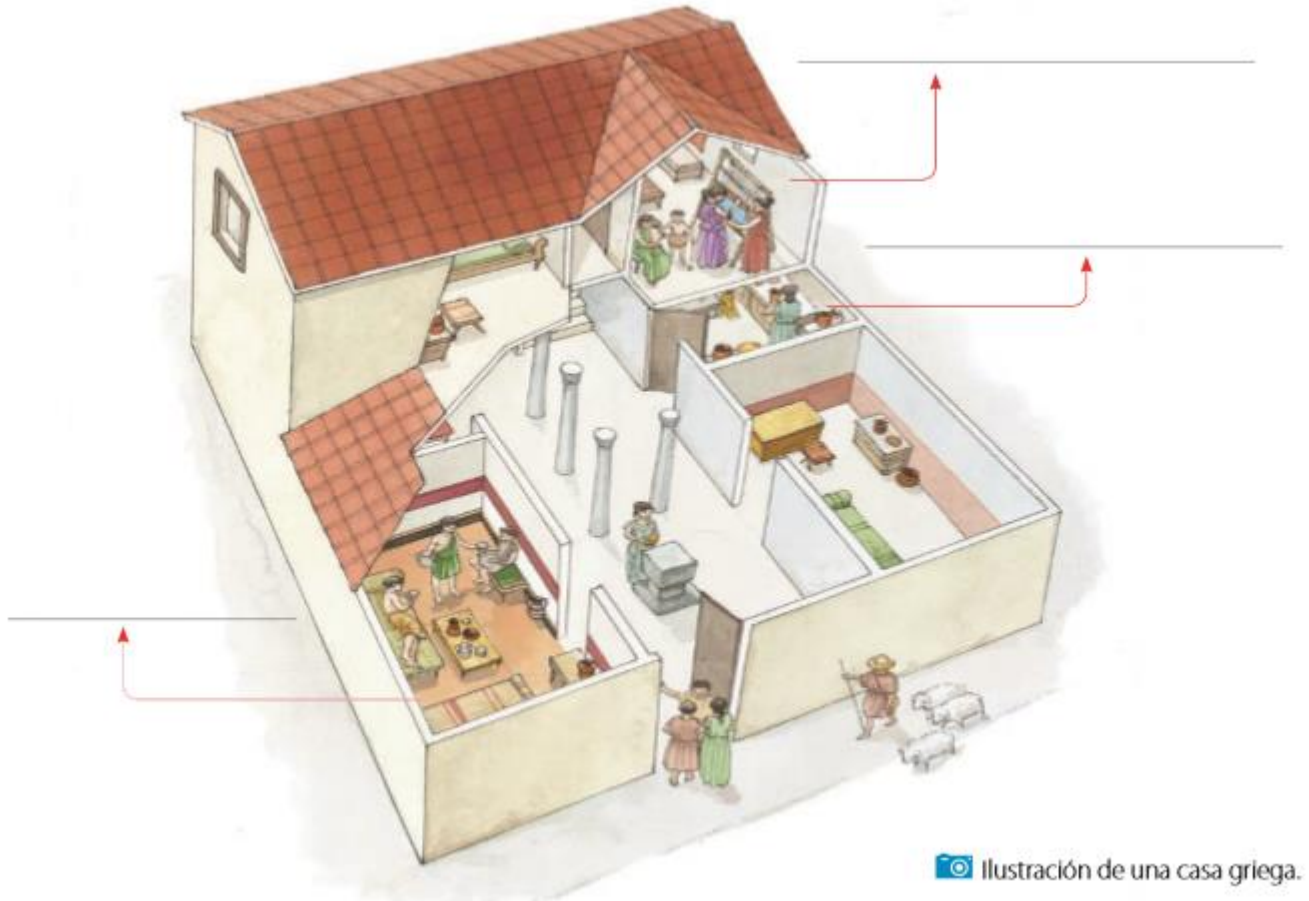
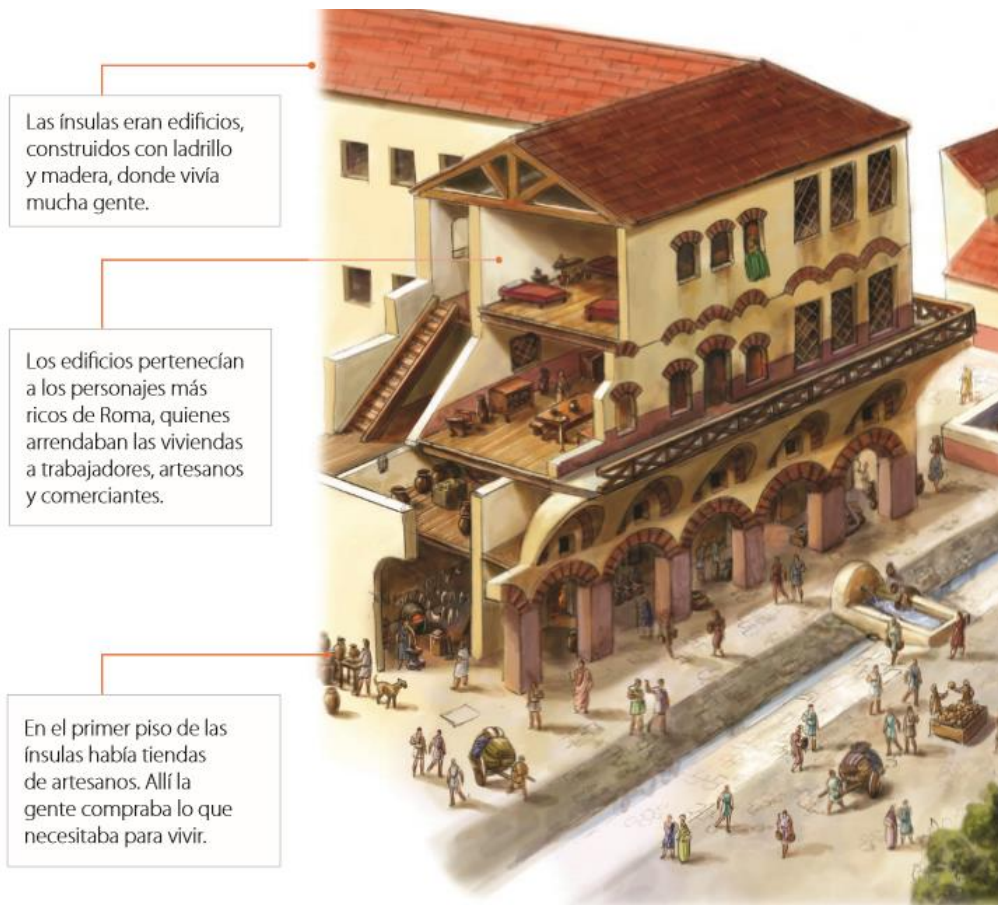


Ilustración de una casa griega.

¿Dónde vivían los romanos?

Los romanos de la ciudad vivían muy apretados en edificios de varios pisos llamados **ínsulae**, las que estaban formadas por numerosas viviendas pequeñas y poco ventiladas donde vivían los artesanos y comerciantes, es decir las familias de escasos recursos o más pobres de Roma. Las familias más acomodadas habitaban lugares más grandes y espaciosos llamados **domus**.

Estas casas los **domus** eran muy lujosas tenían agua, calefacción, sistema de alcantarillado y baño, por otra parte, las **ínsulas** eran edificios de ladrillos y madera, donde vivía mucha gente, estos edificios eran propiedad de hombres ricos que arrendaban las habitaciones a trabajadores romanos.





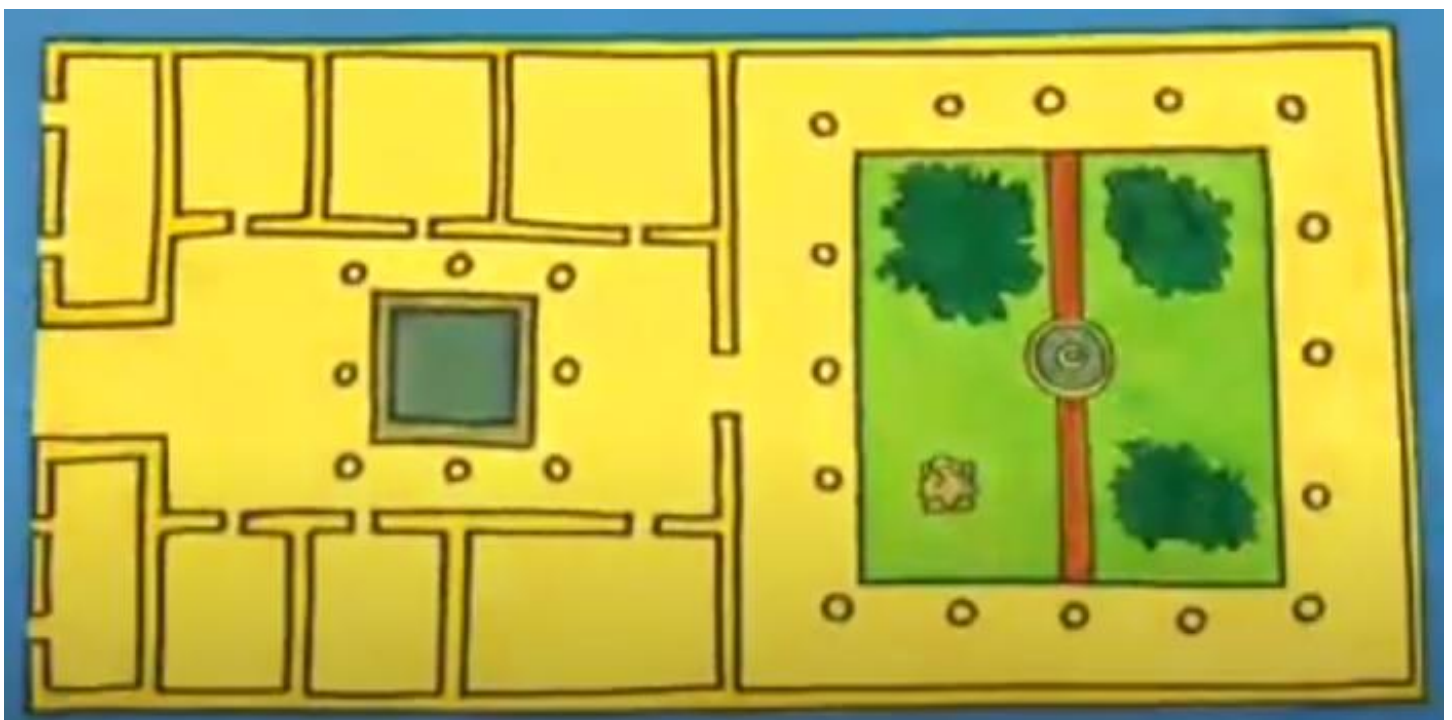
Ve el siguiente video para que comprendas mejor las viviendas de los griegos (publicaré este video en tu Class-dojó de curso) <https://www.youtube.com/watch?v=N9g7IMe-EnY>

Actividad 2:

a) Según lo leído sobre la vivienda llamada ínsulae, ¿con qué vivienda de la actualidad la puedes comparar?, ¿Por qué?

b) Después de ver el video de la vivida romana domus que te deje en la guía.

- Recorta y pega en tu cuaderno la misma lámina de la casa griega del video, te la dejo a continuación.
- Confecciona tú mismo las láminas con los nombres de las habitaciones, puedes usar cualquier material de tu casa (hojas de block, cartulinas, hojas de cuaderno, hojas de croquera, goma eva, lápices de colores, plumones, etc.)
- Pega las láminas donde corresponde a cada habitación del domus, recuerda guiarte por el video.



Autocorrección y envío de trabajo: La entrega del ítem de corrección 17 debe realizarse como plazo máximo el día miércoles 29/07 a las 14:00 hrs.



Después de haber contestado las preguntas:

- Completa la tabla **“Veamos cuanto logré y aprendí”** para así verificar el desarrollo del cómo realizaste la guía. Debes colocar un ticket ✓ en el indicador que más te representa en las actividades realizadas.
- Responde las preguntas finales explicando brevemente, en el espacio asignado.
- Reconoce el nivel que alcanzaste frente al objetivo planteado al inicio de la guía.
- Posteriormente ingresa al siguiente link <https://forms.gle/YVfRzxs4ooYKrgRH9> completa tus datos, adjunta una fotografía o archivo de estos y envíalo. Sólo debes enviar la tabla completada y las preguntas finales respondidas. Recuerda hacerlo con letra clara y legible. **Si tienes dudas, observa los videos disponibles en la plataforma Class-Dojo de tu curso que te mostrarán cómo hacerlo de forma correcta.**
- La forma correcta de guardar el archivo y posteriormente enviarlo al google formulario es: nombre – apellido – curso – nº de guía Ejemplo:
Carlos Vargas 3°C Guía 17.

Nº	Indicadores guía 17	Logrado	Medianamente Logrado	Por Lograr
1	Observa el video de la vivienda griega propuesto por la profesora y completa las oraciones según corresponde.			
2	Escribe el nombre de las 3 habitaciones en la imagen de la vivienda griega según corresponde.			
3	Recorta y pega la lámina del domus en el cuaderno			
4	Confecciona las láminas con los nombres de cada una de las habitaciones del domus.			
5	Pega las láminas guiándose con el video y ubicando como corresponde a cada una de las habitaciones del domus.			

Nivel Óptimo	Nivel Intermedio	Nivel Inicial
<i>Tienes 4 o más indicadores logrados.</i>	<i>Tienes 3 indicadores logrados o al menos 4 medianamente logrado.</i>	<i>Tienes 3 indicadores o más por lograr.</i>

Una vez que hayas completado la tabla anterior, establece en el nivel que te encuentras según la siguiente clasificación:

Pregunta Final:

¿Logré comprender el objetivo de trabajo? Menciona las acciones que realizaste para alcanzarlo.

¿Qué te costó más comprender sobre ésta guía? ¿Por qué crees que te costó más? *Explica.*



**Recuerda que cualquier duda puedes hacérmela al correo o al chat de Class-Dojo de tu curso.
Cuídate, lava frecuentemente tus manos y por favor quédate en casa.**