



TRABAJO FORMATIVA DE CIENCIAS NATURALES

2° BÁSICO A, B Y C

(Semana diez: 1 al 5 de junio)




Objetivo: Comprender y reconocer principales estructuras del cuerpo humano.

Instrucciones de trabajo:

- ✓ Lea cada pregunta y responda en la hoja de respuestas. (El apoderado puede leer las instrucciones o preguntas de cada ítem)
- ✓ A usted apoderado: No le dé las respuestas al estudiante, aunque esté errado; la idea es evaluar de manera transparente esta primera unidad.
- ✓ **Responda al final de la guía la pauta de autoevaluación de la unidad.**

EVALUACIÓN DE UNIDAD 1: “Descubriendo nuestro cuerpo”

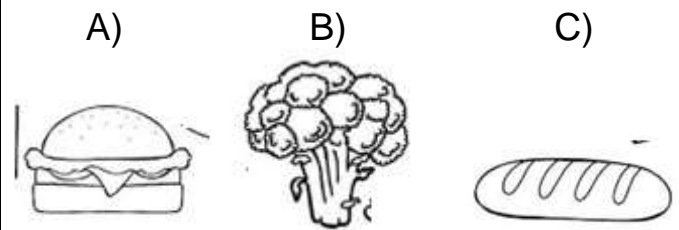
I. Marque la letra de la alternativa correcta. Traspase las respuestas a la hoja anexa a final.

<p>1. El sistema locomotor está encargado de las funciones de:</p> <p>A) La digestión B) El movimiento C) Las emociones</p>	<p>2. Para que el niño realice la acción que muestra la imagen utiliza principalmente:</p>  <p>A) El tronco B) Las extremidades inferiores C) Las extremidades superiores</p>
<p>3. En la imagen observamos un hueso que cumple la función de proteger un órgano llamado:</p>  <p>A) Cerebro B) Corazón C) Estómago</p>	<p>4. De las siguientes alternativas, cuál es correcta sobre este órgano:</p>  <p>A) Tenemos dos, uno a cada lado protegidos por las costillas. B) Bombea sangre a todo el cuerpo y se ubica entre los pulmones C) Recibe los alimentos y los disuelve con ayuda de jugos gástricos</p>

5. Los intestinos delgado y grueso son parte del Sistema digestivo junto a otro órgano importante llamado:

- A) Corazón
- B) Cerebro
- C) Estómago

6. De los siguientes alimentos se considera "chatarra":



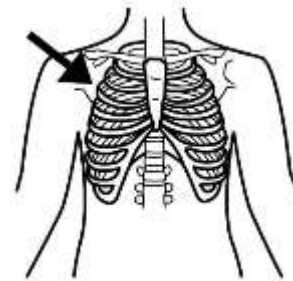
7. La acción que realiza el hombre daña principalmente en nuestro cuerpo:



Fumar

- A) Estómago
- B) Pulmones
- C) Intestinos

8. Estos huesos que vemos en la imagen protegen a 2 órganos llamados:



- A) Cerebro y estómago
- B) Pulmones y corazón
- C) Intestinos delgado y grueso

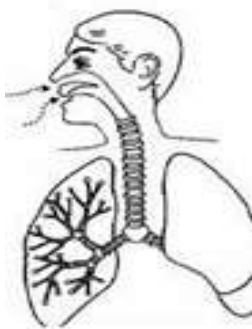
9. Los pulmones llevan a cabo un proceso muy importante llamado:

- A) Respiración
- B) Digestión
- C) Movimiento

10. Es el hueso más largo de nuestro cuerpo; su nombre es:

- A) Columna
- B) Costilla
- C) Fémur

11. La imagen muestra los pulmones llenándose de aire a lo cual llamamos:



- A) Inhalar
- B) Exhalar
- C) Masticar

12. La imagen muestra una acción que ayuda a nuestro cuerpo, esta representa:



- A) Alimentación saludable
- B) Higiene personal
- C) Actividad física

HOJA DE RESPUESTAS

N° de pregunta	Alternativa correcta (Letra)	N° de pregunta	Alternativa correcta (Letra)
1		7	
2		8	
3		9	
4		10	
5		11	
6		12	

PAUTA DE AUTOEVALUACIÓN DE LA UNIDAD 1

Responda, marcando con una X en el casillero correspondiente. Deber ser lo más honesto posible; y recordar que es una pauta para monitorear tu proceso de aprendizaje.

N°	Indicadores	SI	NO	TAL VEZ
1	Aprendí que los órganos del cuerpo son importantes para el funcionamiento de mi cuerpo			
2	Puedo ubicar sin dificultad los órganos del cuerpo que conocí en la unidad 1			
3	Puedo explicar para qué sirven mis huesos y músculos.			
4	Puedo identificar y nombrar acciones que ayudan a cuidar y mantener mi cuerpo sano.			
5	Logré desarrollar todas las guías de trabajo antes de la evaluación.			

Responda: ¿Hay algún contenido de la unidad o concepto que te dejó dudas? Si respondes SI. Indique cuál o cuáles.

<u>SI</u>	<u>NO</u>

DEBES ADJUNTAR SÓLO LA ÚLTIMA HOJA (ACTUAL) NO LA PRUEBA COMPLETA, YA QUE REVISARÉ LA HOJA DE RESPUESTAS.

SI LO HACES A TRAVÉS DE CLASSDOJO SERÍA GENIAL, SI NO ESTÁ EN LA PLATAFORMA LO PUEDE HACER ENVIANDO UN CORREO A: profenicolecsj@gmail.com. Puedes tomarle una foto y adjuntarla.

Le solicito en lo posible respetar horarios de envío (8:00 a 13:00 y de 15:00 a 20:00 horas)

Le comunico que comenzaremos a trabajar con el envío de tareas cada 2 semanas y un receso intermedio, así favorecer los tiempos de trabajo y descanso.

Cariños. Tu profesora Nicole Luengo